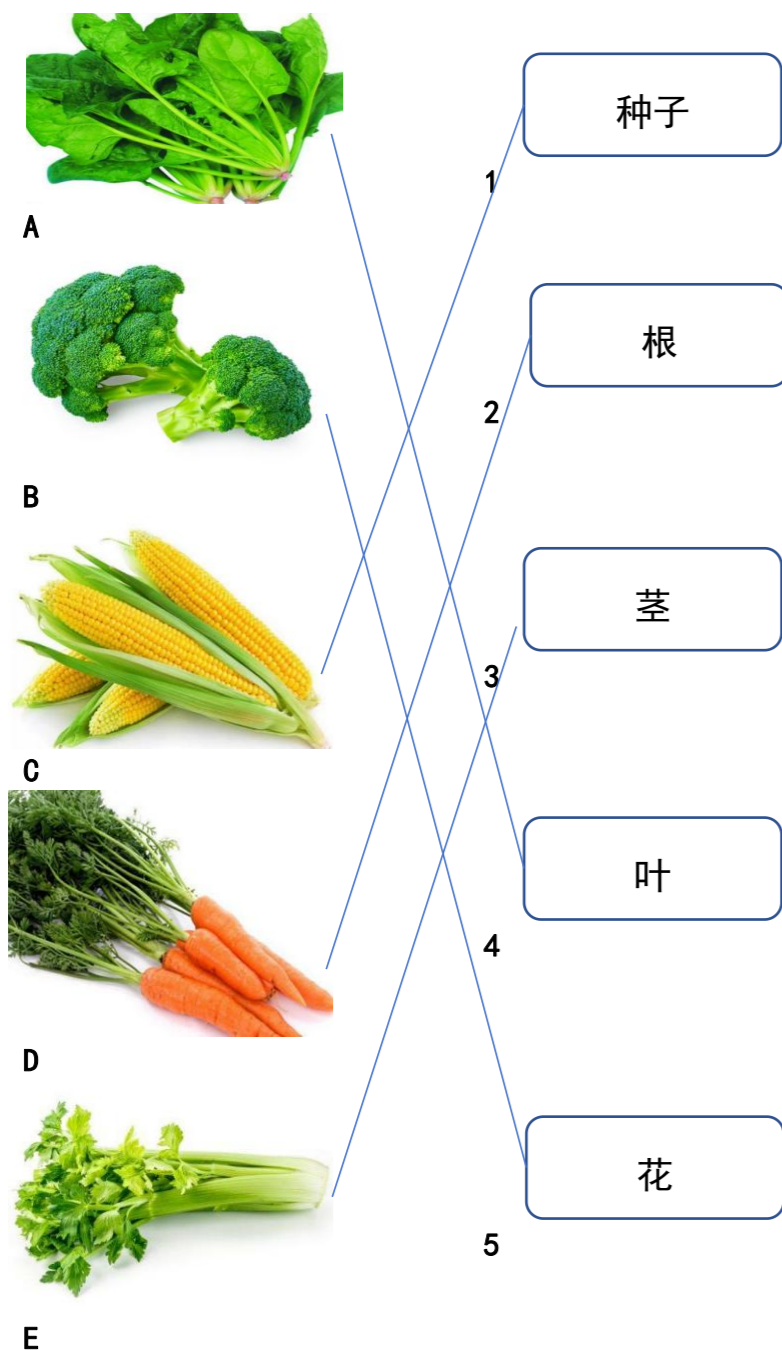


青少年科技素养水平测试 二级 模拟试卷 3

(时长: 45 分钟 总分: 100 分)

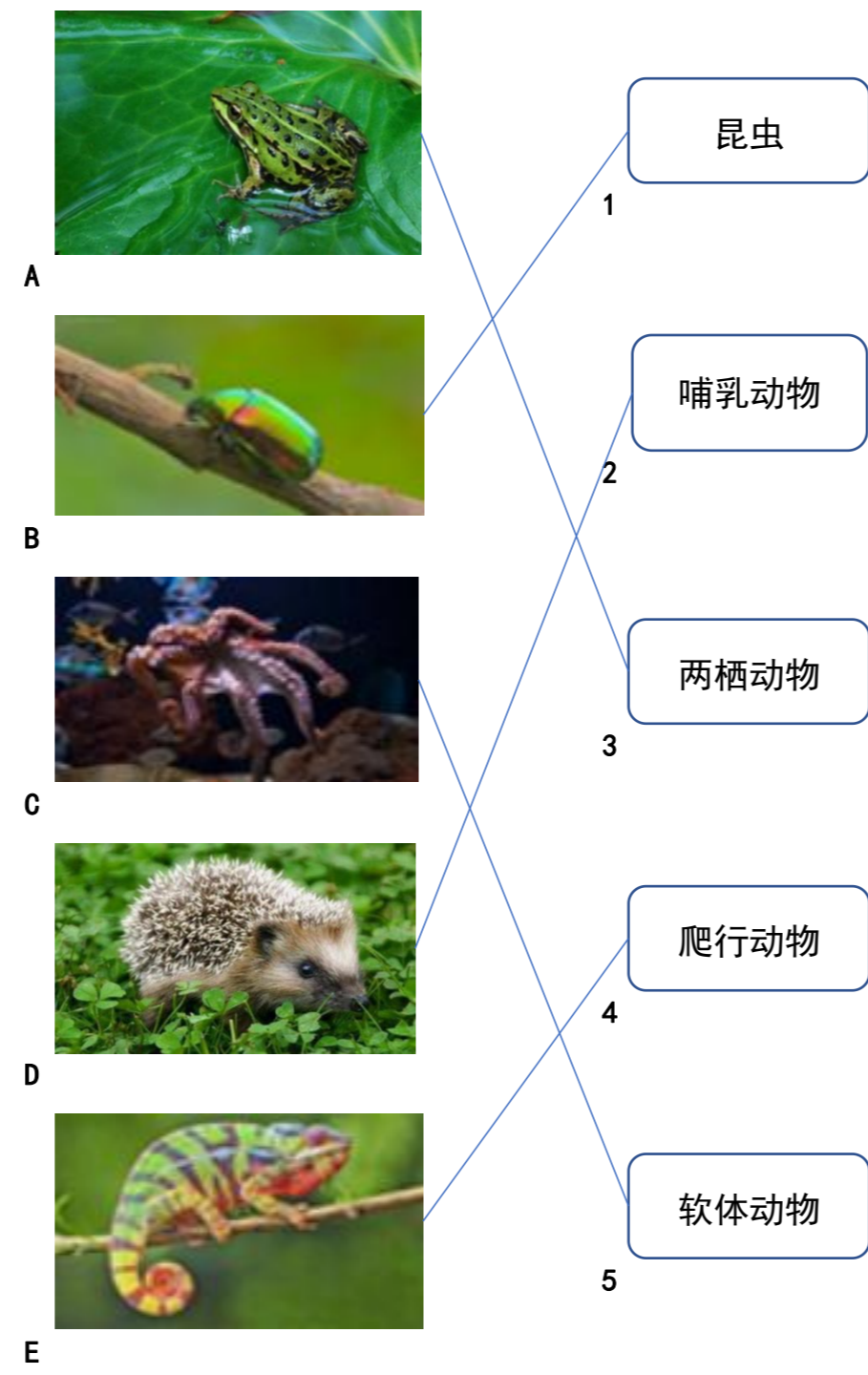
一、连线题 (共 3 题, 每题 10 分, 共 30 分) 得分: _____

1. 植物有根、茎、叶、种子等不同器官, 日常生活中, 人们吃的水果、蔬菜等来自于植物。下面是人们经常食用的几种蔬菜, 观察并思考, 判断人们食用的是它们的什么器官, 将其与对应名称连起来。



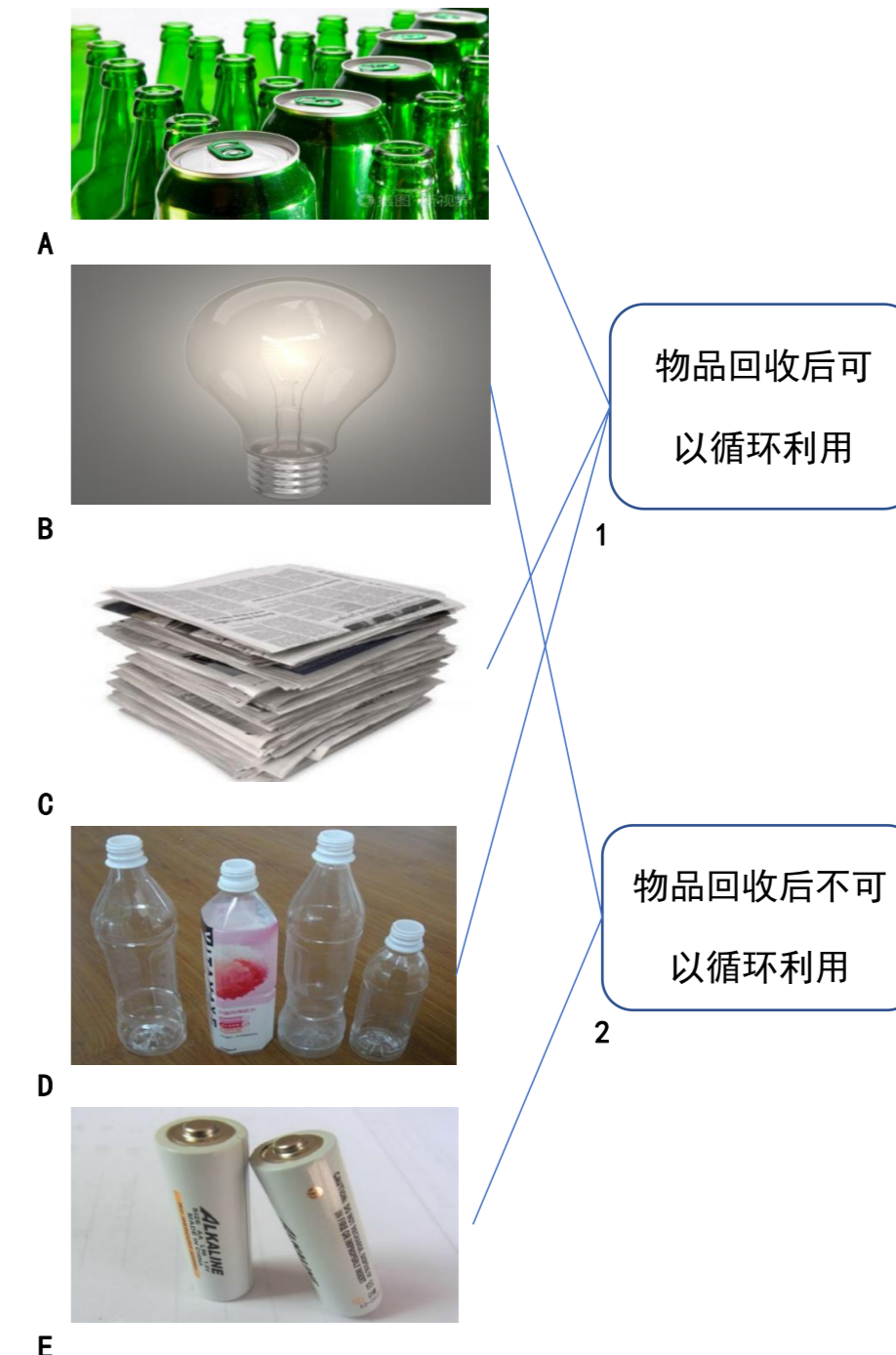
A matching exercise with five vegetable images on the left and five plant parts in boxes on the right. Lines connect them as follows: A (Spinach) to 4 (叶), B (Broccoli) to 5 (花), C (Corn) to 3 (茎), D (Carrots) to 2 (根), and E (Celery) to 1 (种子).

2. 动物的种类繁多, 人们根据动物的不同特征或习性对动物进行分类, 观察下图中的动物, 将它们与右边的词语配对, 并用线连起来。



A matching exercise with five animal images on the left and five animal groups in boxes on the right. Lines connect them as follows: A (Frog) to 3 (两栖动物), B (Beetle) to 1 (昆虫), C (Octopus) to 5 (软体动物), D (Hedgehog) to 4 (爬行动物), and E (Chameleon) to 2 (哺乳动物).

3. 废旧物品回收后循环利用, 既能节约资源, 又节能环保。请仔细观察下面图片, 哪些物品回收后可以循环利用? 哪些物品回收后不可以循环利用? 请用线连起来。



A matching exercise with five items on the left and two recycling categories in boxes on the right. Lines connect them as follows: A (Green bottles) to 1 (物品回收后可以循环利用), B (Light bulb) to 2 (物品回收后不可以循环利用), C (Newspapers) to 1, D (Plastic bottles) to 2, and E (Batteries) to 2.

地区:

姓名:

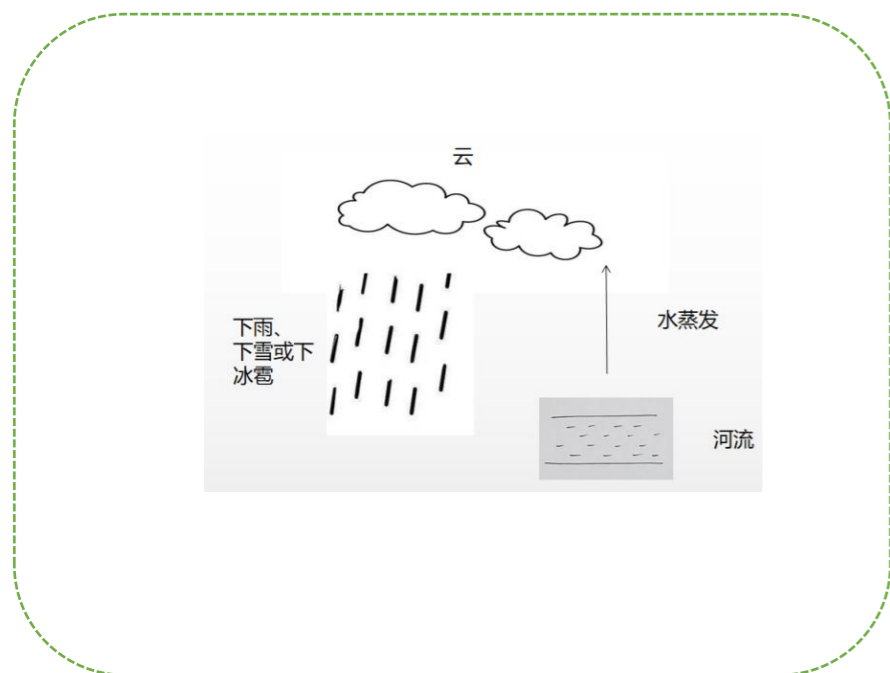
准考证号:

成绩:

评判签字:

二、画图题 (共 1 题, 共 20 分) 得分: _____

太阳温暖陆地、大气和水。当太阳照射水面, 水温升高, 一些水变成了水蒸气, 水蒸气在空中冷却又变成小雨滴或小冰晶, 从而形成云, 当小水滴或小冰晶继续变大, 它们会以雨、雪或冰雹的形式降落在地面, 我们把水在地球和大气之间这种无休止的“旅程”叫水循环。请在下列方框内画出水循环的过程。



三、实践操作题 (共 1 题, 共 50 分) 得分: _____

(根据实验案例进行练习)